



T.C.  
BAYRAKLI KAYMAKAMLIĞI  
İLÇE MİLLİ EĞİTİM MÜDÜRLÜĞÜ  
KAZANIM DEĞERLENDİRME SINAVI

## ***FEN BİLİMLERİ***



# ***T.C. İNKILAP TARİHİ VE ATATÜRKÇÜLÜK***

## ***İNGİLİZCE***

### **ÖĞRENCİLERİN DİKKATİNE!**

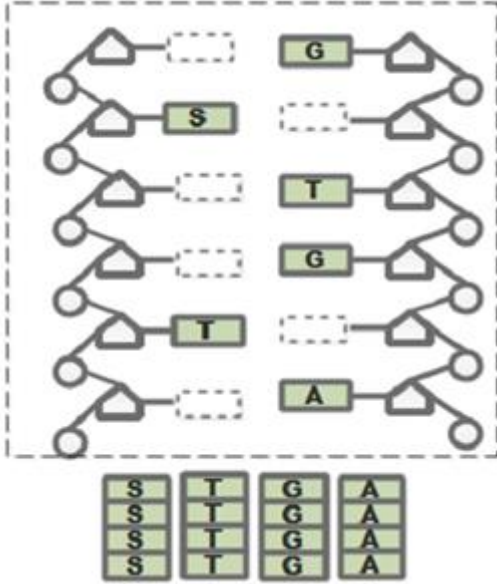
1. Sınıf öğrenci yoklama listesinde belirtilen sınıfta ve sıra numarasında oturunuz.
2. Cevap kâğıdındaki kimlik bilgilerinin doğruluğunu kontrol ediniz. Bilgiler size ait değilse veya cevap kâğıdı kullanılmayacak durumdaysa sınav görevlilerine bildirin.
3. Kitapçık türünü cevap kâğıdındaki ilgili alana kodlayınız.
4. Cevap kâğıdı üzerindeki kodlamaları kurşun kalemle yapınız.

## **5. DENEME**





## **II. OTURUM**

1. Bu testte 20 soru vardır.
2. Cevaplarınızı, cevap kâğıdına işaretleyiniz.




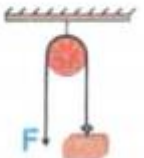
1. Ahmet öğretmenin verdiği etkinlik kâğıdının boş yerlerine Üzerinde harflerin yazıldığı etiketleri yapıştıracaktır.



Yukarıdaki etiketleri eksiksiz ve doğru bir şekilde yapıştırıyor. Ahmet'in elinde kalan etiketlerinin son durumu hangi şıktaki gibi olur?

- A)  B) 
- C)  D) 

2. Aşağıdaki basit makinelerden hangisinde kuvvet kazancı yoktur?

- A)  B) 
- C)  D) 

3.

Element	Katman Sayısı	Son Katmandaki Elektron Sayısı
X	2	7
Y	1	2
Z	3	1

X, Y ve Z elementlerine ait bazı bilgiler tabloda verilmiştir.

Buna göre;

I. X ile Z elektron alış verişi sonucu kimyasal bağ yapar.

II. Y ile Z arasında iyonik bağ oluşur.

III. X ile Y bazı elektronlarını ortak kullanarak bileşik oluşturur.

**İfadelerden hangileri doğrudur?**

- A) I ve II      B) I ve III  
C) Yalnız I      D) I, II ve III

4. Tabloda X, Y ve Z çözeltilerinin özellikleri verilmiştir.


	Özellikleri
X	Turnusol kâğıdının rengini maviye çevirir.
Y	Sulu çözeltileri elektrik akımını iletir.
Z	H <sup>+</sup> sayısı, OH <sup>-</sup> sayısından fazladır.

**Buna göre aşağıdaki eşleştirmelerden hangisi doğru olabilir?**

- A) X Asit      Y Tuz      Z Baz  
B) Baz      Asit      Tuz  
C) Tuz      Asit      Baz  
D) Baz      Tuz      Asit

1. Bu testte 20 soru vardır.
2. Cevaplarınızı, cevap kâğıdına işaretleyiniz.

5. Aşağıda dört farklı maddenin kütlesi verilmiştir. Bu maddelerden iki tanesi tepkimeye girmiş diğer iki maddeyi oluşturmuştur.

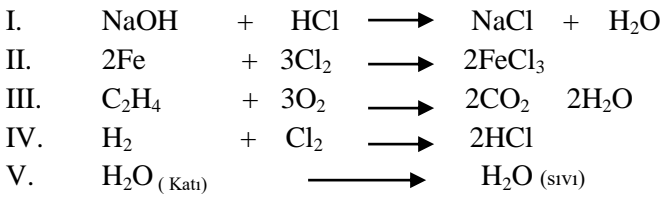


Yukarıdaki maddelerden hangileri kimyasal tepkimeye giren maddeler, hangileri tepkimede sonucu oluşan maddeler olabilir?

**Tepkimeye girenler**                      **Tepkimede oluşanlar**

- |    |     |     |
|----|-----|-----|
| A) | K-M | L-N |
| B) | K-L | M-N |
| C) | K-N | L-M |
| D) | M-N | K-L |

6. Aşağıda verilen tepkime denklemlerinden kaç tanesi yanma tepkimesine örnek değildir?



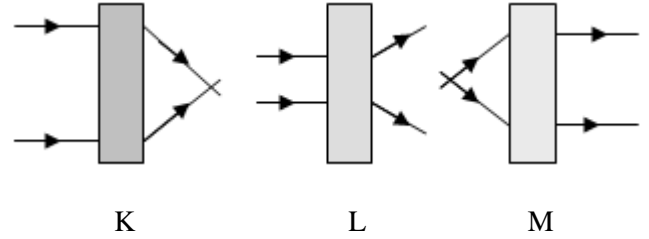
- A) 1                      B) 2                      C) 3                      D) 4

7. X : Alkali metal  
 Y : Halojen  
 Z : Soy gazdır.

**Buna göre aşağıdakilerden hangisinin doğruluğu kesin değildir?**

- A) X bileşiklerinde daima +1 değerlik alır.  
 B) Z nin değerlik elektron sayısı 8 dir.  
 C) Y , 7A grubu elemetidir.  
 D) X ile Y arasında iyonik bağlı bileşik oluşur.

8.



K , L , M kutularına gönderilen ışınların kırıldıktan sonra izlediği yol verilmiştir.

**Buna göre K , L , M kutularında hangi tür mercekler vardır?**

**K**                      **L**                      **M**

- |                  |               |               |
|------------------|---------------|---------------|
| A) İnce kenarlı  | Kalın kenarlı | İnce kenarlı  |
| B) Kalın kenarlı | İnce kenarlı  | İnce kenarlı  |
| C) İnce kenarlı  | İnce kenarlı  | Kalın kenarlı |
| D) Kalın kenarlı | İnce kenarlı  | Kalın kenarlı |

BAYRAKLI İLÇE MİLLİ EĞİTİM MÜDÜRLÜĞÜ 2016 -2017

9. Öğretmen ;

Mehmet' ten sesin ışıktan daha yavaş olduğunu İrem' den de sesin bir enerji olduğuna dair bir örnek vermesini istemiştir.

*Öğrencilerin örnekleri aşağıda verilmiştir.*

**Mehmet** : "Havai fişek patlamasında , ışıkların görünmesinden sonra patlama sesinin duyulması."

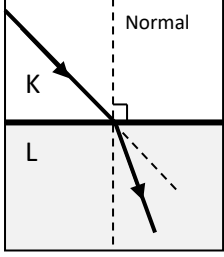
**İrem** : " Patlayan bir bombanın yan sokaktaki evlerin camlarını kırması."

**Öğrencilerin cevapları hakkında aşağıda verilenlerden hangisi doğrudur?**

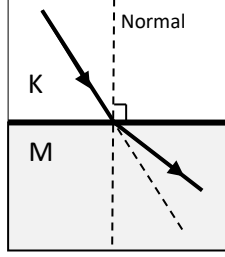
- A) Mehmet' in örneği doğru , İrem' in örneği yanlıştır.  
 B) İrem' in örneği doğru , mehmetin örneği yanlıştır.  
 C) Her iki öğrencinin örneği doğrudur  
 D) Her iki öğrencinin örneği yanlıştır.

1. Bu testte 20 soru vardır.
2. Cevaplarınızı, cevap kâğıdına işaretleyiniz.

10. Bir saydam ortamdan başka bir saydam ortama geçen ışınlar ışınlar, doğrultu değiştirirken hızlarında değişir.



Şekil -I



Şekil-II

Buna göre , yukarıda verilen K ,L ve M ortamlarındaki ışınların hızı için aşağıdakilerden hangisi söylenebilir?

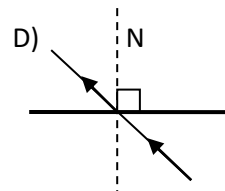
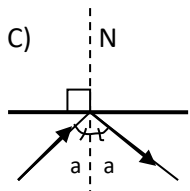
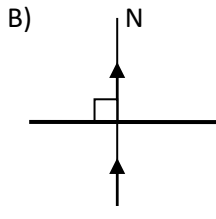
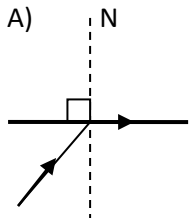
	<u>K</u>	<u>L</u>	<u>M</u>
A)	Hızlı	Yavaş	En yavaş
B)	Yavaş	Hızlı	En hızlı
C)	Hızlı	Yavaş	En hızlı
D)	Hızlı	En hızlı	Yavaş

11. Aşağıdaki cümlelerden hangisinde ısı ve sıcaklık kavramları doğru olarak kullanılmıştır?

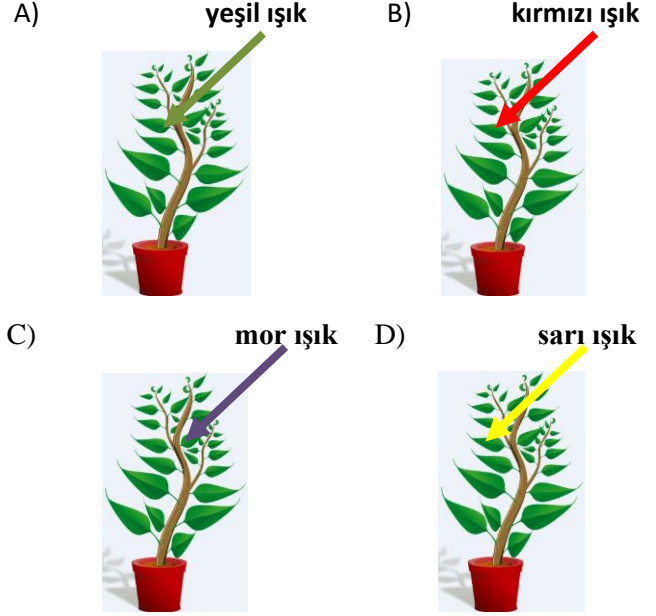
- Sağlıklı bir insanın vücut ısısı  $36.5^{\circ}\text{C}$  ' dir.
- Sıcaklığı farklı olan iki madde birbirine temas ettirildiğinde aralarında sıcaklık akışı olur.
- Kullandığımız termoslar içindeki sıvının sıcaklığının dış ortama akmasını engeller.
- Madde ısı aldığı anda sıcaklığı artar.

12.

Aşağıda farklı olduğu bilinen ortamlara gönderilen ışınlar hangi yolu kesinlikle izleyemez?



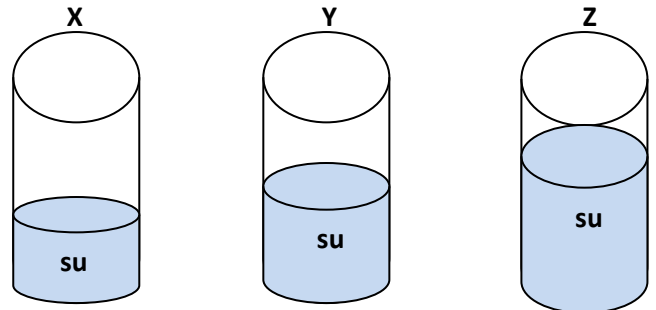
13. Fotosenteze etki eden faktörlerden biride ışık rengidir. Farklı ışık renklerinde fotosentez hızında değişir. Buna göre aşağıda verilen ışık renklerinin hangisinde fotosentez en yavaş gerçekleşir?



14. Aşağıda verilen besin zincirlerinden hangisi yanlış sırada verilmiştir?

- Ot - Tavşan – Tilki
- Fare – Yılan – Kartal
- Yosun – Balık – Yengeç
- Yosun – kurbağa – Yılan – Atmaca

15.



Yukarıdaki kaplarda başlangıç sıcaklıkları aynı olan farklı miktardaki sular  $30^{\circ}\text{C}$  gelene kadar ısıtılmıştır.

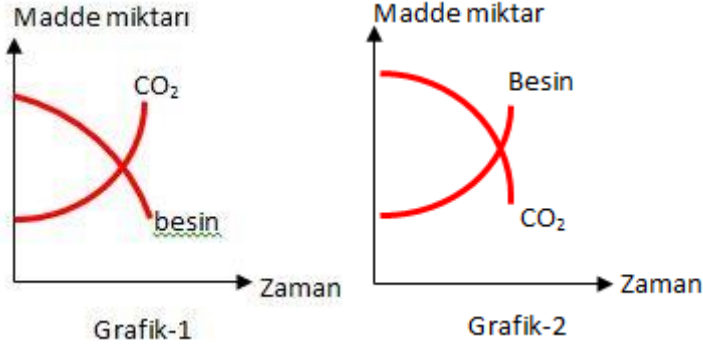
Buna göre X , Y ve Z kaplarındaki maddelerin sahip olduğu ısı miktarlarını büyükten küçüğe sıralayınız.

- $Z>Y>X$
- $X>Y>Z$
- $Y>Z>X$
- $Z>X>Y$



1. Bu testte 20 soru vardır.
2. Cevaplarınızı, cevap kâğıdına işaretleyiniz.

16.



Yukarıdaki grafiklere göre Grafik - 1 ve Grafik - 2' de verilen olaylar hangileridir?

Grafik - 1

Grafik - 2

- |                |            |
|----------------|------------|
| A) Fotosentez  | Solunum    |
| B) Solunum     | Fotosentez |
| C) Buharlaşıma | Solunum    |
| D) Yoğuşma     | Fotosentez |

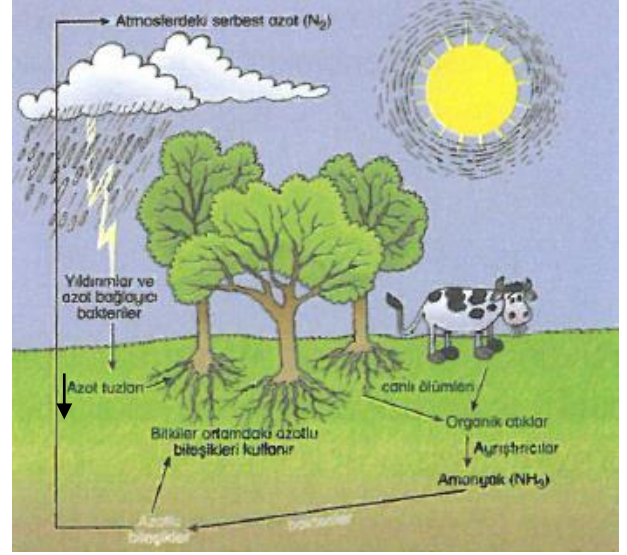
17. Ozon tabakası ile ilgili verilen yorumlardan hangisi **yanlıştır**?

- Ozon tabakasının seyrelmesi , tüm canlıları ve doğayı olumsuz etkiler.
- Ozon tabakasının seyrelmesi insanlarda çeşitli cilt hastalıklarına neden olabilir.
- Ozon tabakasının seyrelmesi üretici canlıların daha fazla fotosentez yapmasını sağlar.
- Ozon tabakası , Güneş'ten gelen zararlı ışınları tutarak , bu ışınların yer yüzüne ulaşmasını engeller.

18. Aşağıdakilerden hangisi genetik mühendisliği çalışmalarının insanlık için doğurabileceği **olumsuz** sonuçlardır?

- Kaliteli tarım ürünlerinin yok olması.
- Daha verimli tohumlar elde edilmesi.
- Elde edilen tohumların daha uzun süre saklanması.
- Zararlı böcek türlerinin yok olması

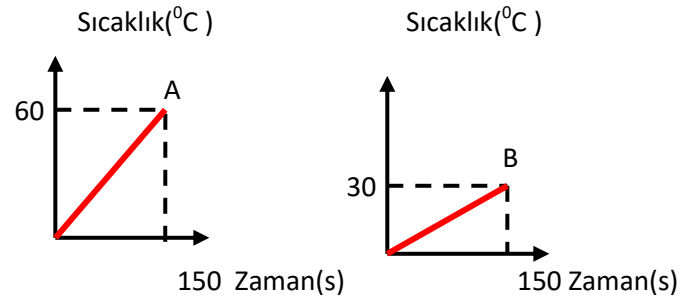
19.



19. Azot döngüsü ile ilgili aşağıda verilen yorumlardan hangisi **yanlıştır**?

- Ayrıştırıcılar azot döngüsünde görev alırlar.
- Tüm canlılar havadaki azotu doğrudan kullanabilirler.
- Azot Döngüsünde yıldırım ve şimşek olaylarının rolü vardır.
- Üreticiler ve tüketiciler yaşamlarını sürdürürebilmek için azota ihtiyaç duyarlar.

20.



Yukarıdaki şekilde özdeş ocaklar kullanılarak ısıtılan A ve B Maddelerinin sıcaklık - zaman grafikleri verilmiştir. Grafiklerde verilen değerlere bakılarak ;

- Maddeler eşit kütlede ise A'nın öz ısısı daha büyüktür.
- A maddesi daha fazla ısı almıştır.
- Eşit kütleli ise ısıtılma sonrasında B maddesi daha geç Soğur.

Verilenlerden hangilerine **ulaşılabilir**?

- I ve II
- I ve III
- Yalnız III
- II ve III

1. Bu testte 20 soru vardır.  
2. Cevaplarınızı, cevap kâğıdına işaretleyiniz.

1. **A:** Do you have any plans for the weekend?  
**B:** No, not really. What do you have in your mind?  
**A:** The school is organizing a tennis competition. Would you like to join?  
**B:** I'm sorry but.....

- A) that sounds great  
B) there is nothing better to do  
C) I'm not really into tennis  
D) I'll pick you up then

2. Susan and I are very good buddies. She always backs me up. I never depend on her. We share similar likes and dislikes. We like watching comedies together. We have many things in common.

Anlam bütünlüğünü bozan cümlelerin bulunduğu seçeneği işaretleyiniz?

- A) She always backs me up.  
B) We have many things in common.  
C) I never depend on her.  
D) We like watching comedies together.

3. Afişte hangi sorunun cevabı yoktur?

POP MUSIC FEST  
Performer: Bedük  
Date: 19th June  
Place: Atatürk Stadium  
Ticket: 50 tl

- A) Where is the concert?      B) What time is the concert?  
C) What kind of music is it?      D) How much is the ticket?

4. I like zorbing because it is.....

- A) ridiculous      B) boring  
C) dangerous      D) exciting

5. My favorite..... is French toast. It is easy to make.

- A) snack      B) dessert  
C) drink      D) vegetable

6. **A:** What is in an omelete?

**B:** Flour, salt, eggs, butter.

Yukarıda altı çizili soru ile aynı anlama gelen cümle hangisidir?

- A) Could you tell me the recipe?  
B) What are the ingredients of an omelete?  
C) How do you cook an omelete?  
D) Can you make an omelete for breakfast?

7. My sister keeps in touch with her friends through .....



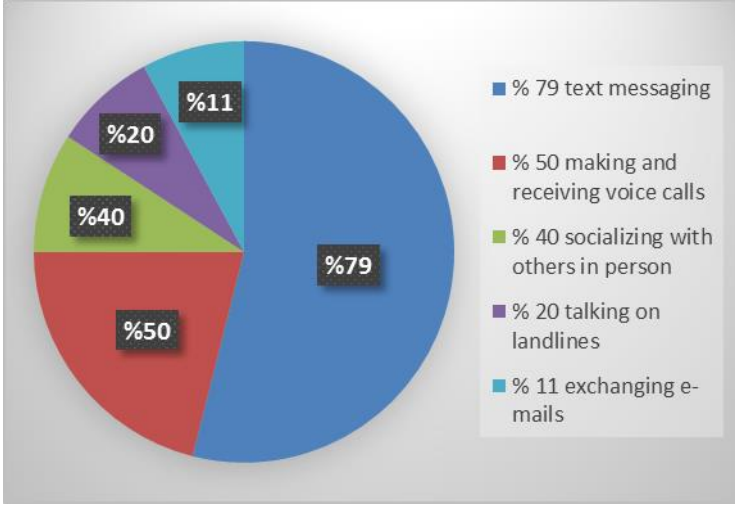
- A) social networks      B) telephone lines  
C) spam e-mails      D) cable modems

1. Bu testte 20 soru vardır.  
2. Cevaplarınızı, cevap kâğıdına işaretleyiniz.

8. I ..... photos on my blog and my friends can see them.

- A) upload  
B) register  
C) sign out  
D) search

9. ve 10. soruları aşağıdaki bilgilere göre cevaplayınız



9. .... is the dominant mode of communication.

- A) Talking on landlines  
B) Making and receiving voice calls  
C) Exchanging e-mail  
D) Text messaging

10. .... is less popular than other ways of communication.

- A) Exchanging e-mails  
B) Text messaging  
C) Socializing with others in person  
D) Making and receiving voice calls

11. A: Ayşe speaking. Is Zehra at home?

- B: Let me check. ....  
A: Ok. I am waiting.

- A) Hang on a minute please.  
B) Please call me later.  
C) Can you repeat please ?  
D) She isn't at home.

12. SEVDE: Internet is the greatest invention of all times.

KÜBRA: ..... It makes our lives easier and we can find everything on the net.

- A) That's right.  
B) I'm not sure.  
C) You're wrong.  
D) I don't agree with you.

13. Görseli en iyi ifade eden seçenek hangisidir?



- A) Parkour running  
B) Hang gliding  
C) Sky diving  
D) Caving

1. Bu testte 20 soru vardır.
2. Cevaplarınızı, cevap kâğıdına işaretleyiniz.

14. Aşağıda kısa tanıtım yazısında otelin hangi özelliğinden bahsedilmemiştir?

#### HOTEL MARINE

- \* Swimming pool
- \* Rooms with double-bed
- \* All- inclusive or bed and breakfast
- \* Next to ancient ruins and castle
- \* Windsurfing and horse riding

- A)Recreational activities      B) Tourist attractions  
C) Accommodation              D) Cuisine

15, 16 ve 17. soruları aşağıda verilen postere göre cevaplayınız.

**Pocket Bike Racing**

1st Prize: 2000 TL  
2nd Prize:100 TL  
3rd Prize 750 TL

Registration  
Fee:10 TL

Event Location: Trabzon  
Date: July 7  
Time: 13:00



For more information you may call, text or email John Taylor  
Mobile: 0561 720 29 61  
Email: taylorjohn@hotmail.com

15. Yukarıda verilen posterde aşağıdaki sorulardan hangisinin cevabı yoktur?

- A) When is the event?  
B) Why do people prefer pocket bike racing?  
C) Who can you contact for more information?  
D) What are the prizes?

16. Osman :.....?  
Tim: It is 10 TL.

Postere göre karşılıklı konuşmayı tamamlayabilecek en iyi ifade aşağıda verilenlerden hangisidir?

- A) How can I contact with John Taylor?  
B) How much is the registration fee?  
C) Where is the event?  
D) Who won the first prize?

17. Postere göre hangisi doğrudur?

- A)You can get information only by sending e-mail.  
B)All prizes are same.  
C)The activity is going to be in Trabzon.  
D)There is no need to register.



1. Bu testte 20 soru vardır.
2. Cevaplarınızı, cevap kâğıdına işaretleyiniz.

Aşağıdaki 18.19. ve 20. soruları metne göre cevaplayınız.

### Mardin-The City of Civilizations

Mardin is located in the Southeastern Anatolian region. It has a continental climate. Temperatures in summer increase to 40° C. It was home to different civilizations such as Babylonians, Hittites, Assyrians, Romans, Byzantines, Abbasid Caliphate and Seljuk Turks. It's a popular tourist destination with its cultural mosaics and unique architecture. Mardin is the crossroad of different religions and cultures. There are many historic mosques, churches and madrassas in Mardin. Great Mosque and Virgin Mary Church are the most popular tourist attractions in the city. Mardin is also well known for its unique cuisine. Ikbebet, sembusek and harire are the best examples of its cuisine.

18. We **can't** get information from the text about.....

- |                        |                  |
|------------------------|------------------|
| A) temperature         | B) food          |
| C) tourist attractions | D) accommodation |

19. Mardin .....

- A) is a multicultural province.
- B) is a great place for recreation.
- C) doesn't have any traditional dishes.
- D) has a mild temperature year around.

20. Which one is **FALSE** ?

- A) Mardin is located in the Southeastern Anatolian Region.
- B) There are many tourist attractions in Mardin.
- C) Mardin was the home of different civilizations.
- D) The city is warm in summers.

1. Bu testte 20 soru vardır.
2. Cevaplarınızı, cevap kâğıdına işaretleyiniz.

1-) Birinci Dünya Savaşı başladığında Osmanlı Devleti tarafsızlığını ilan etti. İtilaf Devletleri Osmanlı Devleti'nden savaş bitinceye kadar tarafsız kalmasını ve Almanya'nın yanında savaşa katılmamasını istediler.

**İtilaf Devletlerinin bu tutumunun nedeni aşağıdakilerden hangisidir?**

- A) Savaşın geniş alanlara yayılmasını engellemek.
- B) Rusya'nın sıcak denizlere inmesini sağlamak.
- C) Osmanlı ekonomisinin güçlenmesini sağlamak.
- D) Osmanlı Devleti'nin toprak bütünlüğünü korumak

- 2 -) I. Cumhuriyetin ilanı  
II. Medeni Kanunu'nun kabulü  
III. Kadınlara seçme ve seçilme hakkının verilmesi

**Yukarıda verilen inkılaplardan hangisi ya da ulusal egemenliği gerçekleştirmeye yönelik değildir ?**

- A) II ve III
- B) I ve II
- C) Yalnız II
- D) Yalnız III

3-) I. Boğazlar tüm itilaf devletleri gemilerine açık olacak.

II. itilaf devletleri güvenliklerini tehdit eden bir durum ortaya çıkarsa, istedikleri bölgeyi işgal edebilecektir.

III. Bütün haberleşme ve ulaşım araçları itilaf devletlerinin kontrolüne girecektir.

**Mondros Ateşkes Antlaşması'nın yukarıdaki maddeleri Osmanlı Devleti'nin hangi haklarını sınırlandırmıştır?**

- A) Ekonomik
- B) Coğrafi
- C) Askeri
- D) Egemenlik

4-) Osmanlı topraklarının işgal edilmesiyle birlikte, milli çıkarlarımızı gözetmeyen, milli duygulardan uzak ve işgalcilerin desteği ile kurulan cemiyetler milli varlığa düşman cemiyetler olarak adlandırılır.

**Aşağıdakilerden hangisi bu cemiyetler arasında gösterilemez?**

- A) Kürt Teali cemiyeti
- B) İngiliz Muhipleri Cemiyetleri
- C) Teali İslam Cemiyeti
- D) Kilikyalılar Cemiyeti

5-) Erzurum Kongresi'nde alınan hangi karar Türk Milleti'nin bağımsızlıktan asla ödün vermeyeceğini göstermektedir?

- A) Manda ve himaye kabul edilemez.
- B) Milli sınırlar içinde vatan bir bütündür.
- C) Yurdun bağımsızlığını sağlamak için gerekirse geçici bir hükümet kurulmalıdır.
- D) Hristiyan azınlıklara siyasi egemenliğimizi bozacak ayrıcalıklar verilemez.

6-) I. Aşar vergisinin kaldırılması

II. Karabük Demir Çelik Fabrikası'nın kurulması

III. İş Bankası'nın kurulmasının

**Yukarıdaki gelişmeler, sırasıyla hangi ekonomik alanlarda yapılmıştır?**

	I	II	III
A)	Sanayi	Tarım	Ticaret
B)	Tarım	Sanayi	Ticaret
C)	Madencilik	Ticaret	Sanayi
D)	Bayındırlık	Ticaret	Sanayi

1. Bu testte 20 soru vardır.
2. Cevaplarınızı, cevap kâğıdına işaretleyiniz.

7-) I. Şeyh Sait İsyanı

II. Anzavur Ayaklanması

III. İzmir Suikastı

IV. Tekke, Zaviye ve Türbelerin kapatılması

Yukarıda verilenlerden hangileri Cumhuriyet döneminde çok partili siyasi hayat denemelerinin başarısızlığa uğramasında rol oynayan etkenler olmuştur?

- A) I ve II                      B) II ve III  
C) I ve III                     D) II ve IV

8-) Aşağıdakilerden hangisinde ikinci olay birinci olayın sonucu değildir?

- A) I. İnönü Savaşı – Moskova Antlaşması'nın imzalanması  
B) Sakarya Zaferi - Mustafa Kemal'e Gazilik ünvanı verilmesi  
C) Kütahya -Eskişehir Savaşları – Mudanya Ateşkes Antlaşması'nın yapılması  
D) II. İnönü Zaferi – İtalyanların Anadolu'dan çekilmeye başlamaları

9-) Atatürk İnkılaplarının temel amacı aşağıdakilerden hangisidir?

- A) Türkiye'yi çağdaş uygarlık seviyesine ulaştırmak  
B) Ekonomik kalkınmayı gerçekleştirmek  
C) Milli egemenlik ilkesini yerleştirmek  
D) Türk kültürünü geliştirmek

10-) I. Kadınların istediği mesleği seçmesi

II. Kadınlara yerel yönetimlere katılma haklarının verilmesi

III. Mirasta kadın-erkek eşitliğinin sağlanması

IV. Boşanma konusunda erkeğe tanınan hakların kadınlara da tanınması

Yukarıda verilenlerden hangisi Medeni Kanunu'nun kabulü ile tanınan haklar arasında gösterilemez?

- A) I                      B) II                      C) III                      D) IV

11-) Bir Devletin, düşman devletler üzerinde caydırıcı ve zorlayıcı bir etkide bulunabilmek için kullandığı her türlü güce verilen ad aşağıdakilerden hangisidir?

- A) Milli Güvenlik                      B) Milli Hedef  
C) Milli Güç                              D) Milli Sınır

12-) Sakarya Meydan Savaşı'nın kazanılması üzerine;

- Fransa ile Ankara Antlaşması imzalanmıştır.
- Kafkas Cumhuriyetleriyle Kars Antlaşması imzalanmıştır.
- İtalya Anadolu'dan tamamen çekilmiştir.

Bu bilgilere dayanarak aşağıdaki yargılardan hangisine ulaşamaz?

- A) Kurtuluş Savaşı'nın silahlı mücadele kısmı tamamlandı.  
B) Doğu sınırimız kesin olarak çizildi.  
C) Askeri başarılar siyasi zaferler getirdi.  
D) Fransa yeni Türk Devleti'ni resmen tanımış oldu.

1. Bu testte 20 soru vardır.
2. Cevaplarınızı, cevap kâğıdına işaretleyiniz.

**13-) Aşağıdaki inkılaplardan hangisi toplumsal hayatın düzenlenmesine yönelik olarak yapılan inkılaplar arasında gösterilemez?**

- A) Türk kadınlarına sosyal hakların verilmesi
- B) Soyadı Kanunu'nun kabulü
- C) Tekke, Zaviye ve türbelerin kapatılması
- D) Millî ekonominin kurulması

**14-) Atatürkçü Düşünce Sistemi ile ilgili;**

- I. Akılcılık ve bilimselliği esas alır.
- II. Dogmalara dayanır.
- III. Dinamiktir.
- IV. Gelişime ve yeniliklere açıktır.

**Yukarıda verilenlerden hangisi yanlıştır?**

- A) I
- B) II
- C) III
- D) IV

**15-) Cumhuriyetin ilk yıllarında parti kurucuları aynı zamanda ordu komutanı idiler. 1924 yılında çıkartılan bir yasa ile ordu mensuplarının siyasi partilere üye olması yasaklanmıştır.**

**Bu yasanın çıkarılmasının temel nedeni aşağıdakilerden hangisidir.**

- A) Ordunun siyasete karışmasını önlemek
- B) Siyasi parti kurma sürecini yavaşlatmak
- C) Ordu mensuplarını başka işlerle meşgul etmemek
- D) Laik devlet düzenini sağlamak

**16-) Kuvay-ı Milliye, Mondros Antlaşması'ndan sonraki gelişmelerden etkilenen Türk halkının bölgesel olarak işgallere karşı bir tepkisi olarak oluşmuştur. Bir merkeze bağlı olmadan eli silah tutan sivil ve asker, kısaca toplumun her kesiminden insanlar yer almıştır.**

**Yukarıdaki bilgilere dayanarak Kuvay-ı Milliye ile ilgili olarak aşağıdakilerden hangisi söylenemez?**

- A) Bölgesel amaçlı faaliyette bulduklarından
- B) İstanbul Hükümeti'nin isteğiyle kurulduğundan
- C) Mondros Ateşkes Antlaşması'ndan sonra kurulduğundan
- D) Silahlı birlikler olduğundan

**17-) TBMM'nin açılışından sonra meclisi en çok uğraştıran konulardan biri Anadolu'nun çeşitli yerlerinde çıkan ayaklanmalar olmuştur. Bu ayaklanmalar İstanbul Hükümeti ile itilaf Devletleri'nin desteğiyle kısa sürede Anadolu'ya yayılmıştır.**

**Bu isyanları bastırmak amacıyla TBMM aşağıdaki önlemlerden hangisini almıştır?**

- A) Takrir-i Sukün Kanunu çıkarılmıştır.
- B) Padişah'tan yardım istenmiştir.
- C) Hıyanet-i Vataniye Kanunu çıkarılmıştır.
- D) İtilaf Devletleri'ne ayrıcalıklar verilmiştir.



1. Bu testte 20 soru vardır.
2. Cevaplarınızı, cevap kâğıdına işaretleyiniz.

18-) 1934 Yılında Soyadı Kanunu'nun kabulüyle, ağa, hacı, hoca, hafız, bey gibi eski toplum zümrelerini belirten ünvanlar kaldırılacak, her aile bir soyadı alacaktı.

**Bu bilgiye göre, her türlü ünvanların kaldırılmasının asıl amacı aşağıdakilerden hangisidir?**

- A) Ekonomik gelişmeleri hızlandırmak
- B) Siyasi alanda eşitlik sağlamak
- C) Millî egemenlik ilkesini yerleştirmek
- D) Toplumsal alandaki ayrıcalıklara son vermek

19-) **Atatürk;** "Ne kadar zengin ve bolluk içinde olursa olsun, istiklalden yoksun bir millet, medeni insanlık dünyası karşısında uşak olmak mevkiinden yüksek bir muameleye layık görülmez ." **demiştir.**

**Atatürk'ün yukarıdaki ifadesinde aşağıdaki ilkelerden hangilerinin önemini vurguladığı savunulabilir?**

- A) Devletçilik ve Milliyetçilik
- B) Laiklik ve İnkılapçılık
- C) Millî Birlik ve Beraberlik
- D) Ulusal bağımsızlık

20-) Mustafa Kemal, Samsun'a çıktıktan bir süre sonra Havza'ya gelmiştir. Buradan valilere ve komutanlara telgraf göndererek, onlardan yurdun her tarafına mitingler yapılmasını ve işgallerin protesto edilmesini istedi.

**Atatürk'ün bu isteklerde bulunmasındaki asıl amaç aşağıdakilerden hangisidir?**

- A) Osmanlı Hükümeti'ne yardım etmek
- B) Halkı bilinçlendirmek ve millî birliği sağlamak
- C) Düşmanlara gözdağı vermek
- D) İtilaf Devletleri'ne savaş ilan edildiğini göstermek